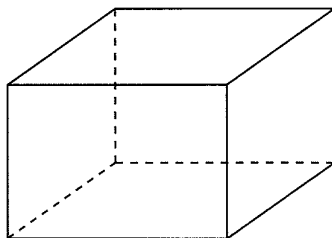


5-2. 空間図形の求積(長さ・面積・体積・角度ほか) 【2009年度実施】

【問1】

図のように、底面が1辺 a cm の正方形で、高さが h cm の直方体があります。この直方体の表面積を、 a , h を使った式で表しなさい。

(北海道 2009 年度)



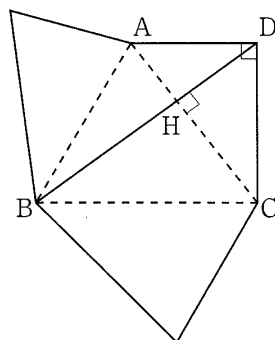
解答欄

cm^2

【問2】

図は、三角錐 $DABC$ の展開図で、四角形 $ABCD$ は図1の台形です。線分 AC と BD との交点を H とし、 $\angle CHD = 90^\circ$ とします。この展開図を三角錐 $DABC$ に組み立てると、 $\angle BHD = 90^\circ$ となります。このとき、三角錐 $DABC$ の体積を求めなさい。

(北海道 2009 年度)



解答欄

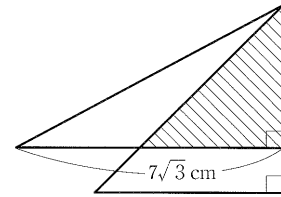
cm^3

【問3】

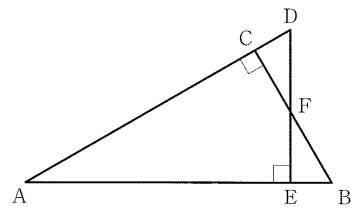
太郎君、花子さん、次郎君は数学の授業で三角定規を組み合わせて問題づくりをした。次の問1～問3に答えなさい。

(青森県 2009 年度)

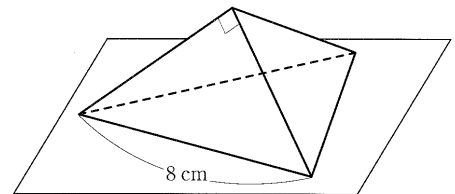
問1. 太郎君は、図1のように1組の三角定規を重ねた。斜線部の面積を求めなさい。



問2. 花さんは、図2のように 60° の角をもつ同じ大きさの三角定規 2 枚を重ねた。 $\triangle CDF$ と $\triangle EBF$ が合同になることを証明しなさい。



問3. 次郎君は、図3のように 45° の角をもつ同じ大きさの三角定規 3 枚で、三角すいを机の上に組み立てた。この三角すいの体積を求めなさい。ただし、三角定規の厚さは考えないものとする。



解答欄

問1	cm^2
問2	証明
問3	cm^3

【問4】

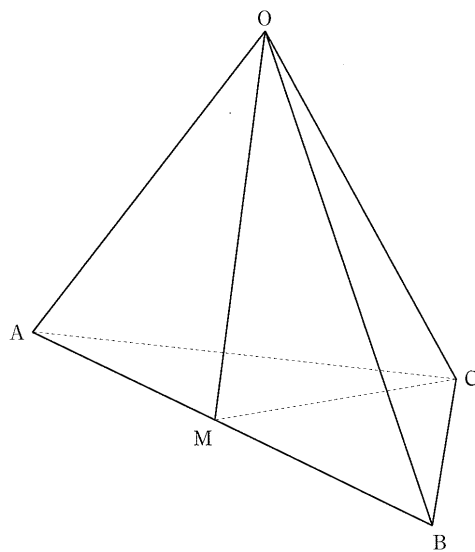
図は、 $OA=OB=OC=5\text{cm}$ 、 $AB=6\text{cm}$ 、 $AC=BC=3\sqrt{2}\text{cm}$ の四面体 $OABC$ です。また、点 M は、辺 AB の中点です。このとき、次の問1～問3に答えなさい。

(岩手県 2009 年度)

問1. 線分 OM の長さを求めなさい。

問2. $\angle OMC$ の大きさを求めなさい。

問3. 辺 OC 上を動く点 P があります。 $\triangle PAB$ の面積が最も小さくなる
とき、その面積を求めなさい。



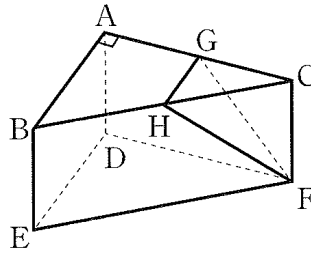
解答欄

問1	cm
問2	度
問3	cm ²

【問5】

図のように、底面が直角三角形で側面がすべて長方形の三角柱 $ABC-DEF$ があり、 $\angle BAC=90^\circ$, $AB=4\text{cm}$, $AC=6\text{cm}$, $AD=3\text{cm}$ である。また、辺 AC , 辺 BC の中点をそれぞれ G , H とする。このとき、三角柱 $ABC-DEF$ から三角錐 $CFGH$ を切り取った残りの立体の体積を求めなさい。

(秋田県 2009 年度)



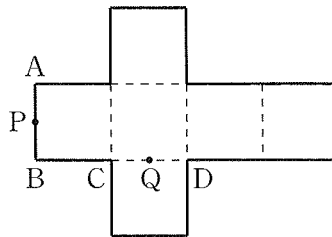
解答欄

cm³

【問6】

図のように、1 辺の長さが 6cm の立方体の展開図がある。線分 AB , 線分 CD の中点をそれぞれ P , Q とする。この展開図を組み立てて立方体をつくったとき、2 点 P , Q の間の距離を求めなさい。

(秋田県 2009 年度)



解答欄

cm

【問7】

健さんは、図1のような1辺の長さが6cmの立方体の形をした容器 ABCD-EFGH を使って、水の体積を調べてみることにした。次の問いに答えなさい。ただし、容器の厚さは考えないものとする。

(山形県 2009 年度)

- (1) 健さんが、図1の容器に水を入れて密閉し、傾けたところ、図2のように水面 図1
は△AFH になった。このときの水の体積を求めなさい。

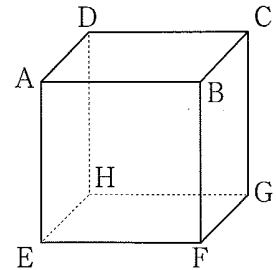
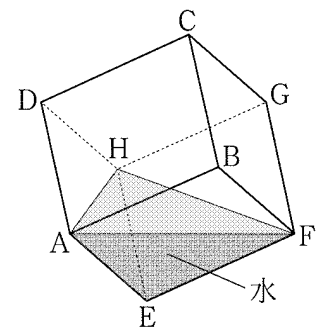


図2



- (2) 次に、健さんは、水の入った図2の容器を、面EFGHが底になるように水平な台に置いた。このとき、面EFGHから水面までの高さを求めなさい。

解答欄

(1)	cm ³
(2)	cm

【問8】

図 1 は、トイレットペーパーのように、円柱の形をした芯に一定の厚さのうすい紙をすき間なく巻いたロール紙であり、色のついた部分を底面とする。1 つの底面の面積を底面積とすると、巻いてある紙の長さはロール紙の底面積に比例する。図 2 は、このロール紙の底面を示したものであり、内側の円の半径が 3cm、外側の円の半径が 8cm である。

(福島県 2009 年度)

(1) このロール紙の底面積を求めなさい。

図 1

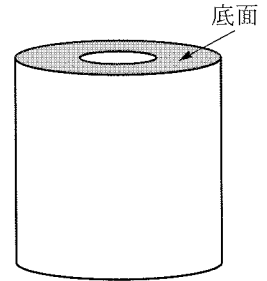
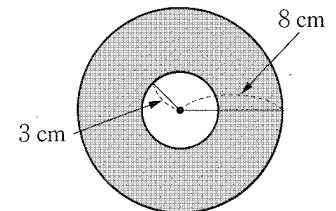
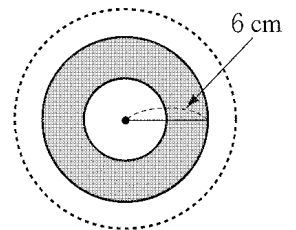


図 2



(2) このロール紙を、底面の外側の円の半径が 6cm になるまで使った。図 3 は、使った後のロール紙の底面を示したものである。このとき、使った紙の長さ、残っている紙の長さを比べると、どのようなことが言えるか。次のア～ウの中から正しいものを 1 つ選び、記号で答えなさい。また、選んだ理由を説明しなさい。

図 3



- ア 使った紙のほうが長い。
- イ 残っている紙のほうが長い。
- ウ 使った紙と残っている紙の長さは等しい。

解答欄

(1)	cm^2
(2)	記号[] 理由

【問9】

図1のような、辺ADと辺BCが平行で、 $AB=6\text{cm}$ 、 $BC=12\text{cm}$ 、 $CD=6\text{cm}$ 、 $DA=6\text{cm}$ の四角形ABCDを底面とし、高さが4cmの四角柱がある。このとき、次の問1、問2に答えなさい。

(福島県 2009 年度)

問1. 点Aから辺BCにひいた垂線とBCとの交点をIと 図1

するとき、線分AIの長さを求めなさい。

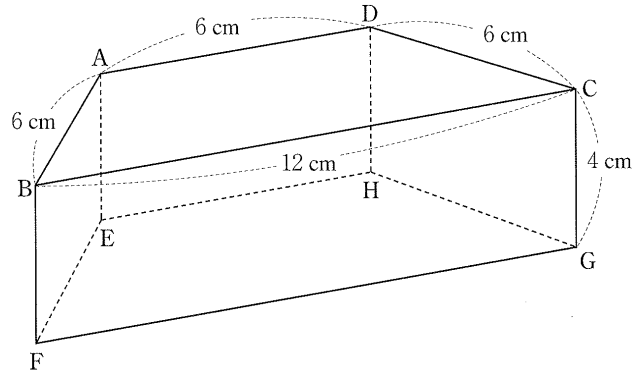
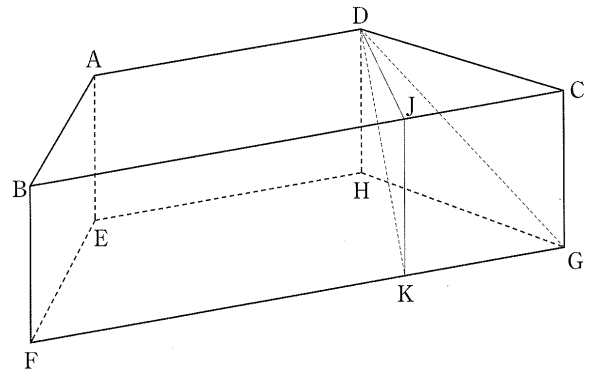


図1

問2. 図2のように、この四角柱の辺BC、FG上にそれぞれ点J、Kを、 $BJ:JC=2:1$ 、 $FK:KG=2:1$ となるようにとる。Dを頂点とし四角形JKGCを底面とする四角すいの体積を $V\text{cm}^3$ とする。

(1) V を求めなさい。

(2) 線分DK上に点Pをとる。Pを頂点とし、四角形EFGHを底面とする四角すいの体積が、 V の $\frac{3}{4}$ 倍となるとき、線分PKの長さを求めなさい。



解答欄

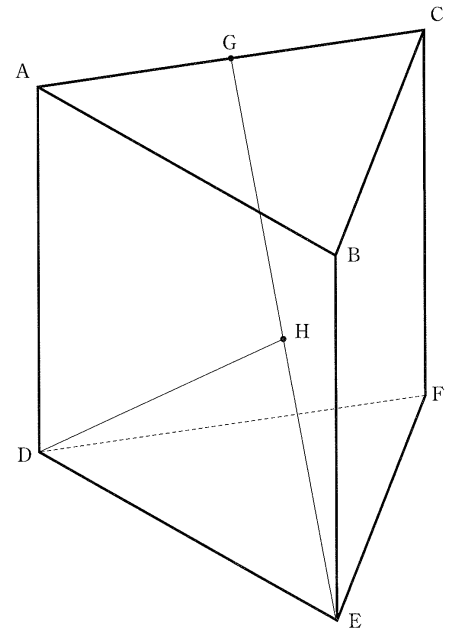
問1		cm
問2	(1)	cm^3
	(2)	cm

【問 10】

図のように、1 辺が 4 cm の正三角形を底面とし、側面がすべて正方形である三角柱 ABCDEF がある。辺 AC の中点を G とし、線分 EG の中点を H とする。このとき、次の問1, 問2に答えなさい。

(茨城県 2009 年度)

問1. 三角柱 ABCDEF の体積を求めなさい。



問2. 線分 DH の長さを求めなさい。

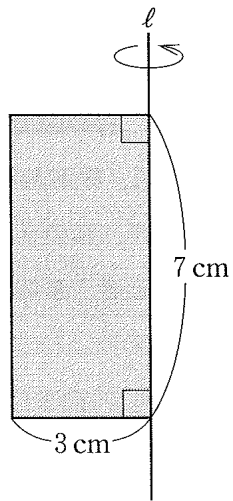
解答欄

問1	cm^3
問2	cm

【問 11】

図の長方形を、直線 l を軸として 1 回転させてできる立体の側面積を求めなさい。ただし、円周率は π とする。

(栃木県 2009 年度)



解答欄

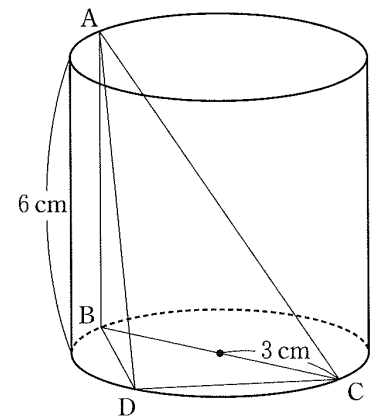
cm^2

【問 12】

図のような、底面の半径が 3cm 、高さが 6cm の円柱がある。AB は母線、BC は底面の直径である。このとき、次の (1)、(2) の問いに答えなさい。

(栃木県 2009 年度)

(1) AC の長さを求めなさい。



(2) $\triangle ABC$ の面積が、 $\triangle ABD$ の面積の 2 倍になるように、点 D を底面の円周上にとる。このとき、三角錐 ABCD の体積を求めなさい。

解答欄

(1)	cm
(2)	cm^3

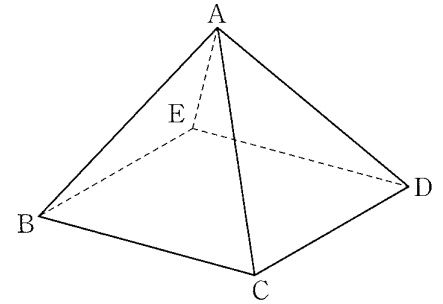
【問 13】

図 I は、各辺の長さがすべて等しい正四角すい $ABCDE$ である。次の問1, 問2に答えなさい。

(群馬県 2009 年度)

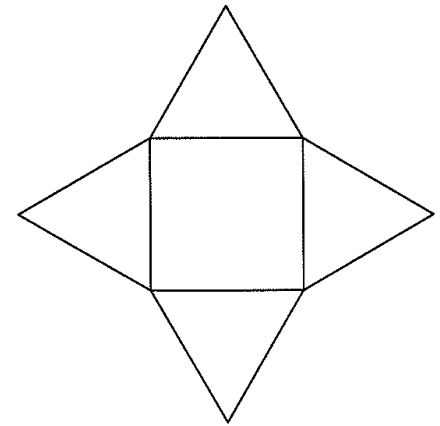
問1. 図 II は、正四角すい $ABCDE$ の展開図の 1 つである。正四角すい

$ABCDE$ の展開図は、回転したり、裏返したりして重なり合うものを 1 つと数えると、全部で 8 つかくことができる。解答用紙の例にならって、正四角すい $ABCDE$ の展開図を、図 II や例で示したもの以外に 3 つかきなさい。ただし、コンパスや定規を用いる必要はない。



問2. 正四角すい $ABCDE$ の 1 辺の長さを 2 cm とし、辺 BC , DE の中点をそれぞれ M , N とする。辺 AC 上に点 P , 辺 AD 上に点 Q を、3 つの線分 MP , PQ , QN の長さの和が最小となるようにとるとき、

図 II



(1) 3 つの線分 MP , PQ , QN の長さの和を求めなさい。

(2) 点 C , D , N , M , P , Q の 6 点を頂点とする立体の体積を求めなさい。

解答欄

問1	例				
	(1)		cm		
問2	(2)		cm ³		

【問 14】

図 1 に示した立体 A-BCD は、 $AD=BD=CD=6\text{cm}$ 、 $\angle ADB=\angle ADC=\angle BDC=90^\circ$ の三角すいである。点 E は辺 AD の中点である。点 P、点 Q は、それぞれ辺 AB、辺 AC 上にある点で、 $AP=AQ$ である。点 E と点 P、点 E と点 Q、点 P と点 Q をそれぞれ結ぶ。次の各問に答えよ。

(東京都 2009 年度)

問 1. $PE \parallel BD$ となるとき、線分 PQ の長さは何 cm か。ただし、答えに根

号が含まれるときは、根号を付けたままで表せ。

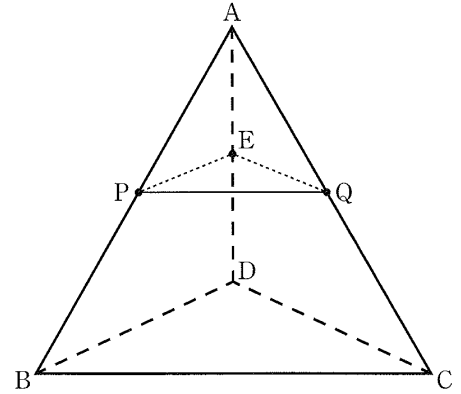


図 1

問 2. 図 2 は、図 1 において、 $AP:PB=2:1$ となるとき、点 P と頂点 C、点 P と頂点 D をそれぞれ結んだ場合を表している。立体 P-CQED の体積は何 cm^3 か。

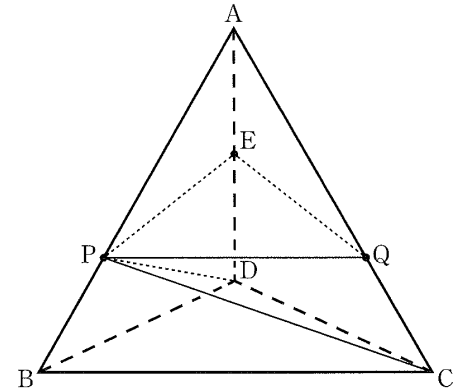


図 2

解答欄

問1	cm
問2	cm^3

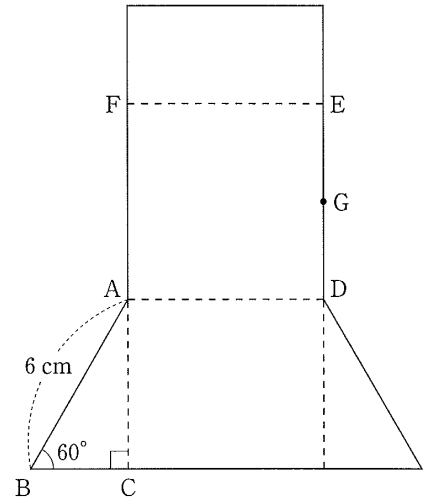
【問 15】

図は、 $AB=6\text{cm}$ 、 $\angle ABC=60^\circ$ 、 $\angle ACB=90^\circ$ の直角三角形 ABC を底面とする三角柱の展開図であり、四角形 $ADEF$ は正方形である。また、点 G は線分 DE の中点である。このとき、この展開図を点線で折り曲げてできる三角柱について、次の問いに答えなさい。

(神奈川県 2009 年度)

問1. この三角柱の体積を求めなさい。

問2. この三角柱において、2 点 C 、 G 間の距離を求めなさい。



解答欄

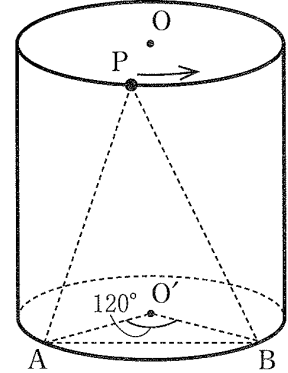
問1	cm^3
問2	cm

【問 16】

図のように、底面の半径が 2cm、高さが 4cm の円柱があり、2 つの底面の中心を、それぞれ O 、 O' とする。底面 O' の円周上に、 $\angle AO'B = 120^\circ$ となる点 A 、 B をとる。また、点 P は、底面 O の円周上を、矢印の向きに一周する点である。このとき、次の問1～問3に答えなさい。

(新潟県 2009 年度)

問1. この円柱の体積を求めなさい。ただし、円周率は π とする。



問2. 線分 AB の長さを求めなさい。

問3. 3 点 P 、 A 、 B を結んでできる $\triangle PAB$ の面積が最も大きくなるとき、その面積を求めなさい。

解答欄

問1	cm^3
問2	cm
問3	cm^2

【問 17】

図 1 は、すべての辺の長さが 8cm の正四角錐であり、図 2 はその展開図である。このとき、次の問1～問3に答えなさい。

(石川県 2009 年度)

問1. 図 2 の展開図を組み立てたとき、点 B と重なる点をア～エの記号で 図 1

答えなさい。

問2. 図 1 の正四角錐の体積を求めなさい。

問3. 図 3 のように、辺 OA, OD の中点をそれぞれ E, F とする。このとき、四角形 EBCF の面積を求めなさい。なお、途中の計算も書くこと。

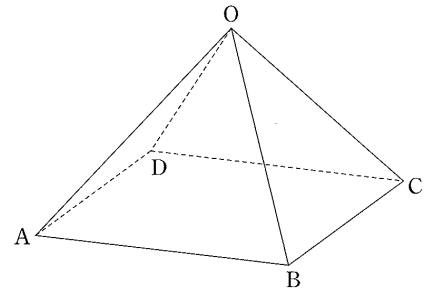


図 2

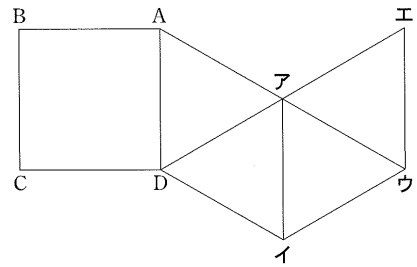
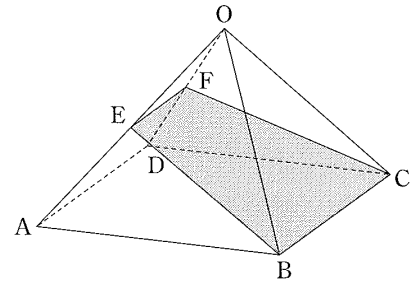


図 3



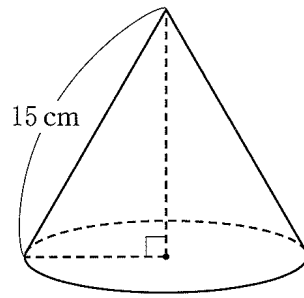
解答欄

問1	
問2	cm ³
問3	計算

【問 18】

図のような円錐の側面の展開図が半円であるとき、底面の半径の長さを求めよ。

(福井県 2009 年度)



解答欄

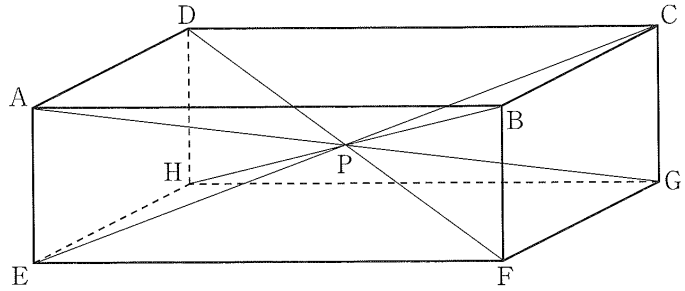
cm

【問 19】

図は、直方体 $ABCD-EFGH$ に 4 本の対角線をひいたもので、この 4 本の対角線は 1 点 P で交わっている。
 $AB=12\text{cm}$, $AD=6\text{cm}$, $AE=4\text{cm}$ とするとき、次の問1～問3に答えなさい。

(山梨県 2009 年度)

問1. 対角線 AG の長さを求めなさい。



問2. $\triangle AEG$ において、 AG を底辺としたときの高さを求めなさい。

問3. この直方体は、各面を底面とし、点 P を頂点とする四角すいが 6 個集まったものとみることができる。これらの四角すいのうち、長方形 $EFGH$ を底面とし、点 P を頂点とする四角すいについて、次の(1), (2)に答えなさい。

(1) この四角すいの表面積を求めなさい。

(2) この四角すいの体積と直方体 $ABCD-EFGH$ の体積の比を、最も簡単な整数の比で表しなさい。

解答欄

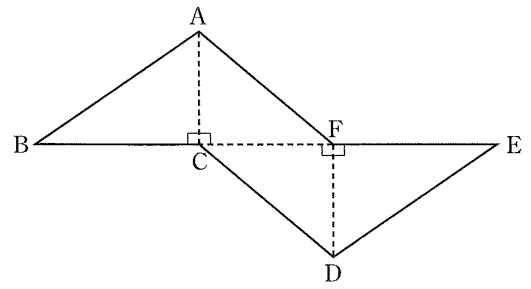
問1	cm	
問2	cm	
問3	(1)	cm ²
	(2)	四角すいの体積:直方体の体積 :

【問 20】

図は、4つの面が直角三角形である三角錐の展開図である。 $AC=DF=5\text{cm}$, $CF=6\text{cm}$ である。

(長野県 2009 年度)

- (1) この展開図を点対称な図形とみたとき、対称の中心から頂点 D までの距離を求めなさい。



- (2) この展開図をもとに、三角錐をつくる。この三角錐の体積を求めなさい。

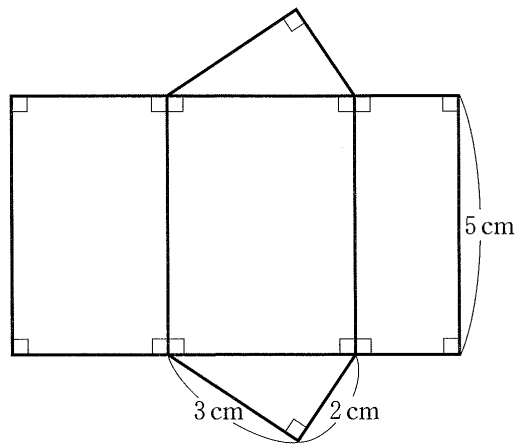
解答欄

(1)	cm
(2)	cm^3

【問 21】

図は、三角柱の展開図である。この展開図を組み立ててつくられる三角柱の体積を求めなさい。

(岐阜県 2009 年度)



解答欄

cm^3

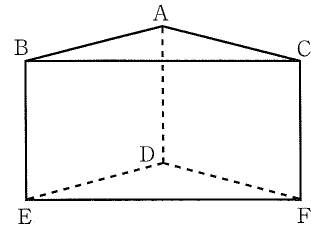
【問 22】

図 3 の容器は、 $\triangle ABC$ を 1 つの底面とする三角柱の形をしている。図 3 において、 $AB=AC=10\text{cm}$ 、 $BC=16\text{cm}$ 、 $AD=8\text{cm}$ であり、側面はすべて長方形である。このとき、次の問1、問2に答えなさい。ただし、容器の厚さは考えないものとする。

(静岡県 2009 年度)

問1. 辺 AB とねじれの位置にある辺はどれか。すべて答えなさい。

図 3



問2. 図 3 の容器を水平な台の上に置き、図 4 のように、水の深さが 4cm になるまで静かに水を入れて密封した。水の入ったこの容器を、図 5 のように、面 $BEFC$ が下になるように水平な台の上に静かに置き直した。図 5 の面 ABC において、線分 AG は頂点 A から辺 BC にひいた垂線であり、点 H は線分 AG と水面の位置を表す線分との交点である。

図 4

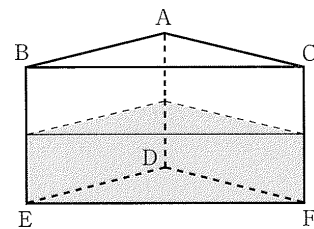
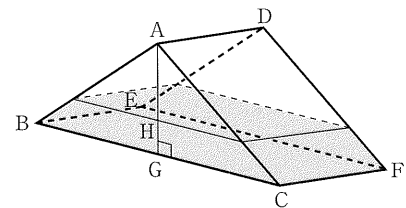


図 5



(1) 線分 AG の長さを求めなさい。

(2) 線分 AH の長さを求めなさい。

解答欄

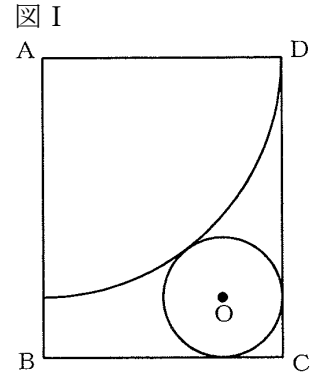
問1		
問2	(1)	cm
	(2)	cm

【問 23】

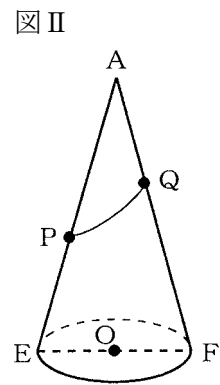
図 I は、長方形 ABCD に円すいの展開図をかいたものである。円すいの側面は A を中心とする半径 AD、中心角 90° のおうぎ形で、底面である円 O は、辺 DC、BC とおうぎ形の弧に接している。図 II は、図 I の展開図の部分を組み立ててできる円すいで、線分 EF は円 O の直径、P、Q はそれぞれ線分 AE、AF 上の点である。AB=15cm、AP=7cm、AQ= $3\sqrt{2}$ cm のとき、次の(1)、(2)の問いに答えよ。

(愛知県A 2009 年度)

(1) 図 II の円すいの体積は何 cm^3 か。



(2) 図 II の円すいの側面に、点 P から点 Q まで糸をかける。糸の長さが最も短くなるようにするとき、その糸の長さは何 cm か。



解答欄

(1)	cm^3
(2)	cm

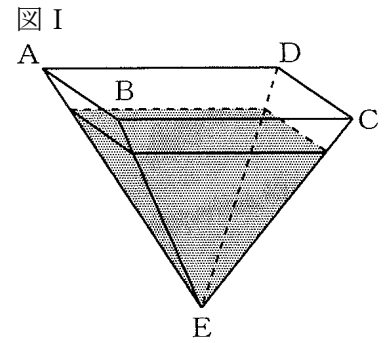
【問 24】

立体 ABCDE は側面がすべて正三角形である正四角すいの容器である。図 I のように、この容器の底面 ABCD が水平になるようにして、頂点 E から水面までの高さが 3 cm になるまで水を入れて、容器を密封した。

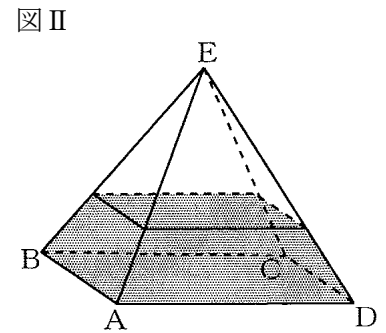
次にこの容器を、図 II のように底面 ABCD を下にして水平な台に置いたところ、水面の面積は図 I の水面の面積の $\frac{4}{9}$ 倍になった。このとき、次の(1)、(2)の問いに答えよ。ただし、容器の厚さは考えないものとする。

(愛知県B 2009 年度)

(1) 図 I の水面の面積は何 cm^2 か。



(2) 正四角すい ABCDE の体積は何 cm^3 か。



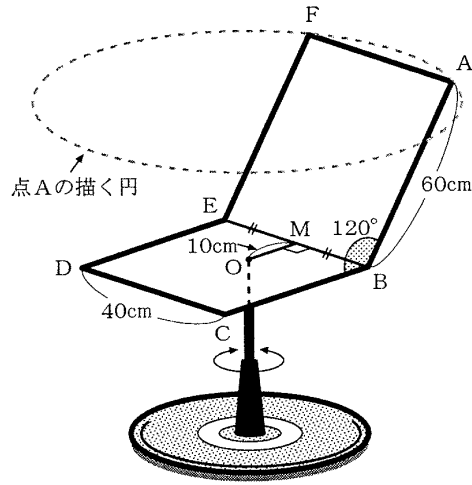
解答欄

(1)	cm^2
(2)	cm^3

【問 25】

図は、背もたれの面を長方形 $ABEF$ 、座る面を正方形 $BCDE$ とした回転式のいす椅子の見取図である。正方形 $BCDE$ 上の点 O を中心に、座る面を常に水平にして回転させるとき、点 A の描く円の半径は何 cm か。求めなさい。ただし、各線分の長さは図 4 のとおりであり、点 M は線分 BE の中点で、 $OM \perp BE$ 、 $\angle ABC = 120^\circ$ とする。

(滋賀県 2009 年度)



解答欄

<input style="width: 80%; height: 30px;" type="text" value="cm"/>

【問 26】

図 I のように、正四角錐の形をした透明な容器 P がある。この容器 P は、 $OA=OB=OC=OD=15\text{cm}$ で、正方形 ABCD の部分の対角線 AC と BD の交点を H とするとき、 $OH=12\text{cm}$ の容器である。このとき、次の問1・問2に答えよ。ただし、容器の厚さは考えないものとする。

(京都府 2009 年度)

図 I

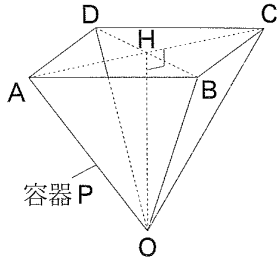


図 II

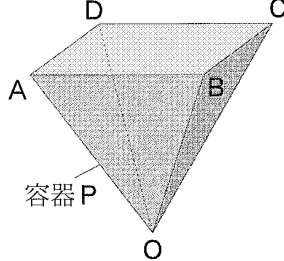
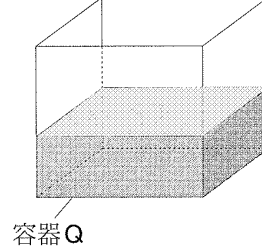


図 III



問1. 線分 AH の長さを求めよ。また、図 II のように、容器 P の正方形 ABCD の部分を水平にして、この容器に水を入れ、満水にしたときの水の体積を求めよ。

問2. 図 II のように、容器 P を満水にしたときの水を、図 III のように、1 辺が 12 cm の立方体の形をした透明な容器 Q に残らず注いだ。このとき、容器 Q に入っている水の深さを求めよ。ただし、容器 Q は水平な台の上に置いてあるものとする。

解答欄

問 1	AH=	cm,	水の体積	cm ³
問2		cm		

【問 27】

図 I において、立体 $ABCD-EFGH$ は、1 辺の長さが 2cm の立方体である。図 II、図 III において、立体 $I-JKLM$ は正四角すいである。次の問いに答えなさい。答えが根号をふくむ形になる場合は、その形のままでよい。

(大阪府 前期 2009 年度)

問1. 図 I において、

- (1) 次のア～カのうち、辺 AE と垂直な面はどれですか。すべて選び、記号を書きなさい。

ア 面 $ABCD$	イ 面 $AEFB$	ウ 面 $AEHD$
エ 面 $BFGC$	オ 面 $DHGC$	カ 面 $EFGH$

図 I

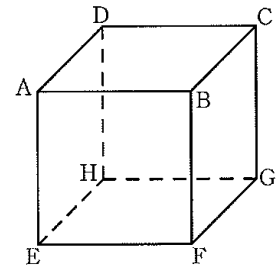


図 II

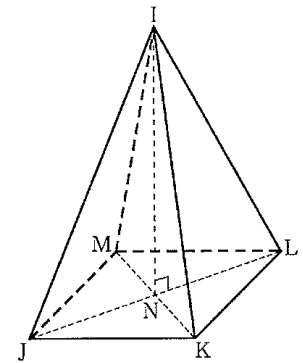
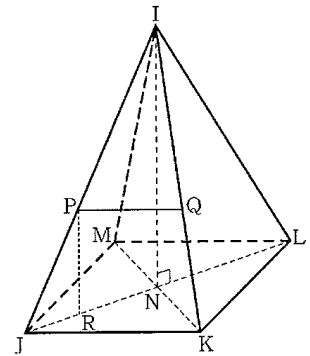


図 III

問2. 図 II、図 III において、 N は底面 $JKLM$ の対角線の交点であり、直線 IN は底面 $JKLM$ と垂直である。底面 $JKLM$ は 1 辺の長さが $a\text{ cm}$ の正方形であり、 $IN=4\text{ cm}$ である。

- (1) 図 II の正四角すい $I-JKLM$ の体積が図 I の立方体 $ABCD-EFGH$ の体積と等しいときの a の値を求めなさい。求め方も書くこと。



- (2) 図 III において、 P は辺 IJ 上の点であり、 $IP:PJ=3:2$ である。 Q は、 P を通り辺 JK に平行な直線と辺 IK との交点である。 R は、 P を通り直線 IN に平行な直線と線分 JL との交点である。 $PQ=PR$ となるときの a の値を求めなさい。

解答欄

問1	(1)	
	(2)	cm
問2	(1)	求め方
		答 a の値
	(2)	

【問 28】

図 I ～図 III において、立体 $ABCD-EFGH$ は四角柱である。四角形 $ABCD$ と四角形 $EFGH$ は合同な台形であり、 $AB \parallel DC$ 、 $\angle ABC = \angle BCD = 90^\circ$ 、 $AB = 5\text{cm}$ 、 $BC = 4\text{cm}$ 、 $CD = 3\text{cm}$ である。四角形 $ADHE$ 、 $DCGH$ 、 $ABFE$ 、 $BCGF$ は長方形であり、 $AE = 2\text{cm}$ である。次の問いに答えなさい。答えが根号をふくむ形になる場合は、その形のままでよい。

(大阪府 後期 2009 年度)

問1. 図 I において、

- (1) 次のア～オのうち、辺 BC と平行な辺、辺 BC とねじれの位置にある辺はそれぞれどれですか。一つずつ選び、記号を書きなさい。

- | |
|----------|
| ア 辺 AD |
| イ 辺 BF |
| ウ 辺 DC |
| エ 辺 EH |
| オ 辺 FG |

- (2) A と G とを結んでできる線分 AG の長さを求めなさい。

問2. 図 II において、 I は、 E を通り辺 FG に平行な直線と直線 HG との交点である。このとき、4 点 E, B, C, I は同じ平面上にあり、 E と B, I と C とをそれぞれ結んでできる四角形 $EBCI$ は長方形である。 J は、辺 IC と辺 DH との交点である。 E と J とを結んでできる $\triangle EJI$ の面積を求めなさい。求め方も書くこと。必要に応じて解答欄の図を用いてもよい。

問3. 図 III において、四角柱 $ABCD-EFGH$ は平面 $EFCD$ によって二つの立体に分けられる。その二つの立体のうち、点 A をふくむ方の立体の体積を求めなさい。




図 I

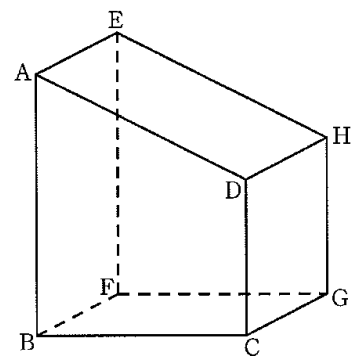


図 II

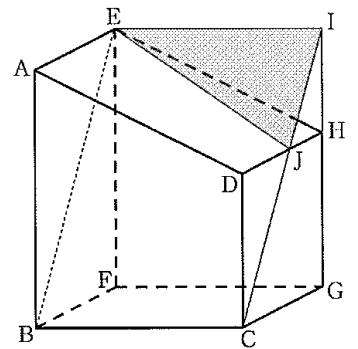
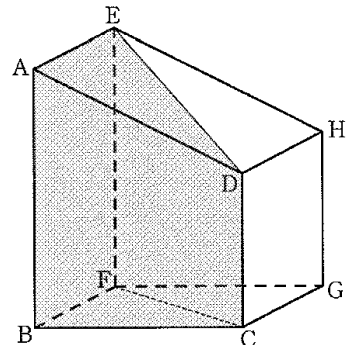


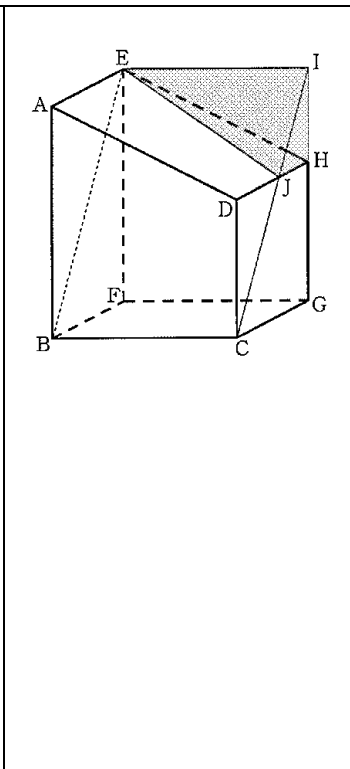
図 III



解答欄

問1	(1)	平行な辺
	(1)	ねじれの位置にある辺
	(2)	cm

問2	求め方
	答 cm^2

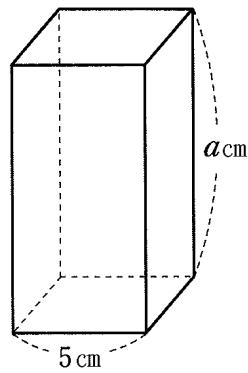


問3	cm^3
----	---------------

【問 29】

図は、底面の1辺の長さが5cmで、高さが a cmの正四角柱である。この正四角柱の表面積を a を用いて表せ。

(奈良県 2009 年度)



解答欄

cm^2

【問 30】

ある円錐の側面の展開図は、半径18cmのおうぎ形である。このおうぎ形の弧の長さが 12π cmのとき、次の(1)、(2)に答えなさい。ただし、 π は円周率を表している。

(和歌山県 2009 年度)

(1) このおうぎ形の中心角の大きさを求めなさい。

(2) この円錐の体積を求めなさい。

解答欄

(1)	度
(2)	cm^3

【問 31】

図 I のように 1 辺の長さが 6cm の立方体の 3 つの頂点 D, E, G を結んでできる $\triangle DEG$ がある。立方体の 2 つの頂点 B と H とを結ぶ対角線をひいたところ、対角線 BH は、 $\triangle DEG$ と垂直に交わった。対角線 BH と $\triangle DEG$ との交点を P とするとき、次の各問いに答えなさい。

(鳥取県 2009 年度)

問1. 線分 EG の長さを求めなさい。

問2. $\triangle DEG$ の面積を求めなさい。

問3. 線分 PH の長さを求めなさい。

問4. この立方体を図 II のように頂点 B, H を通る直線 ℓ を軸として回転させる。このときにできる立体を、 ℓ を含む平面で切るとき、切り口はどのような図形になっていますか。次の(ア)~(エ)から正しいものを 1 つ選び記号で答えなさい。

図 I

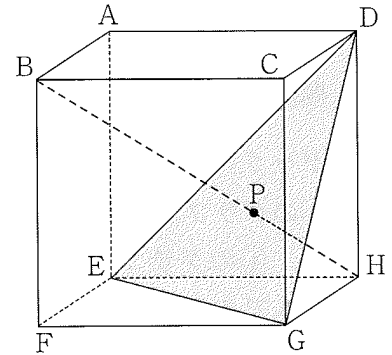
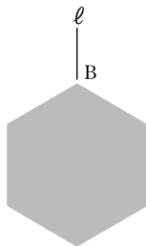
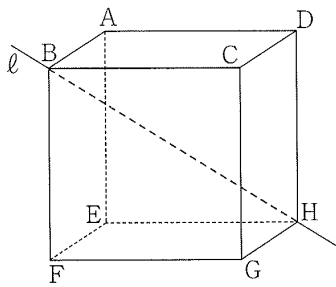
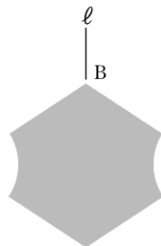


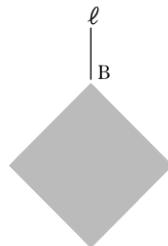
図 II



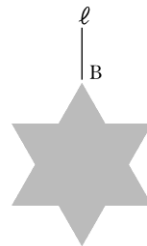
(ア)



(イ)



(ウ)



(エ)

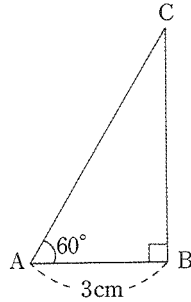
解答欄

問1	EG =	cm
問2		cm ²
問3	PH =	cm
問4		

【問 32】

図のような、 $AB=3\text{cm}$ 、 $\angle A=60^\circ$ 、 $\angle B=90^\circ$ の直角三角形 ABC がある。この三角形を辺 BC を軸として 1 回転させてできる立体の体積は cm^3 である。

(岡山県 2009 年度)

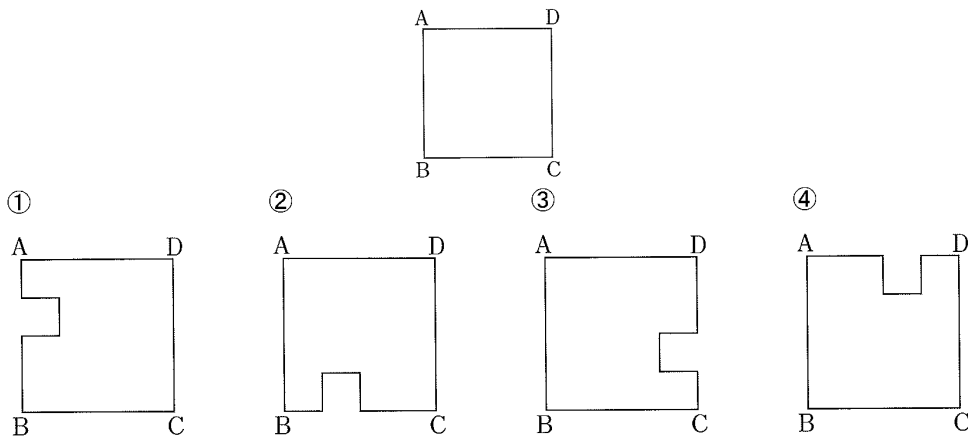


解答欄

【問 33】

図のように、正方形 $ABCD$ があります。下の①～④はそれぞれ、正方形 $ABCD$ から、1 辺の長さが正方形 $ABCD$ の 1 辺の長さの $\frac{1}{4}$ である正方形を切り取った図です。①～④の中で、直線 AB を軸として 1 回転させてできる立体の体積が最も大きくなるものはどれですか。その番号を書きなさい。

(広島県 2009 年度)



解答欄

【問 34】

山口さんの学校の生徒会は、紙パックを集める活動に取り組んでいる。山口さんは、牛乳が入った紙パックの大きさを測ってみたところ、図 1 のように、点 A, B, C, D, E, F, G, H を頂点とする直方体の形をした部分は、 $FG=GH=7\text{cm}$, $DH=20\text{cm}$ であった。次の問1～問3に答えなさい。

(山口県 2009 年度)

図 1

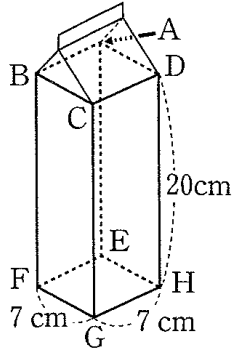


図 2

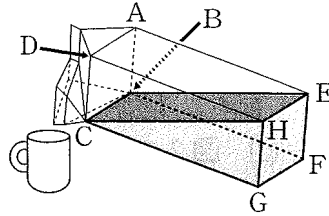
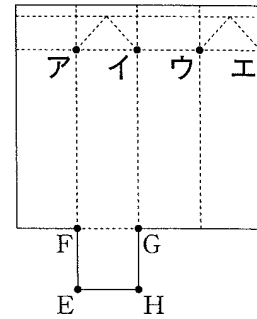


図 3



問1. 図1の紙パックに入っている牛乳をコップに注ぎ、図 2 のように、液面が長方形 BCHE となった時点で注ぐのをやめた。このとき、紙パックの変形は考えないものとして、紙パックの中に残っている牛乳の体積を求めなさい。

問2. 図 3 は、空になった図 1 の紙パックを切り開いたものである。図 3 のア～エの示す点は、図 1 の 4 つの頂点 A, B, C, D のいずれかである。点 A をア～エの中から 1 つ選び、記号で答えなさい。

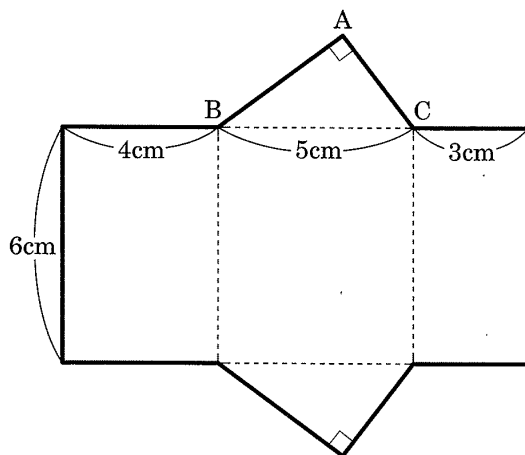
解答欄

問1	cm ³
問2	

【問 35】

展開図が図のようになる三角柱の 体積 を求めなさい。ただし、 $\angle BAC=90^\circ$ とする。

(徳島県 2009 年度)



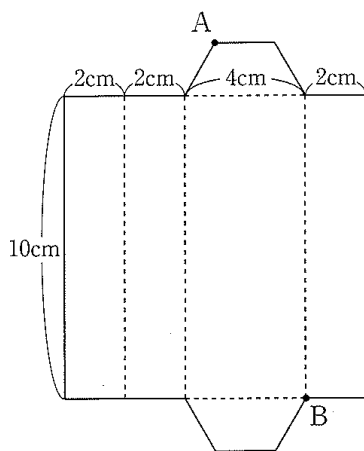
解答欄

cm ³

【問 36】

図は、底面が台形である四角柱の展開図である。これを組み立ててできる四角柱の 2 つの頂点 A, B を結ぶ線分 AB の長さを求めよ。

(愛媛県 2009 年度)



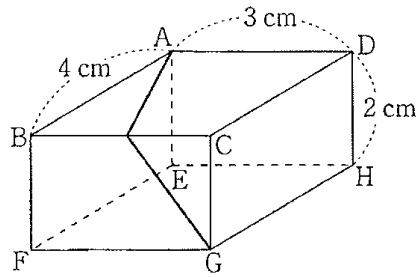
解答欄

cm

【問 37】

図は A, B, C, D, E, F, G, H を頂点にもつ直方体で $AB=4\text{cm}$, $AD=3\text{cm}$, $DH=2\text{cm}$ である。この直方体に、頂点 A から辺 BC を通って、頂点 G まで糸をかけた。かけた糸の長さがもっとも短くなる時の糸の長さを求めよ。ただし、糸の伸び縮みおよび太さについては考えないものとする。

(高知県 2009 年度)



解答欄

cm

【問 38】

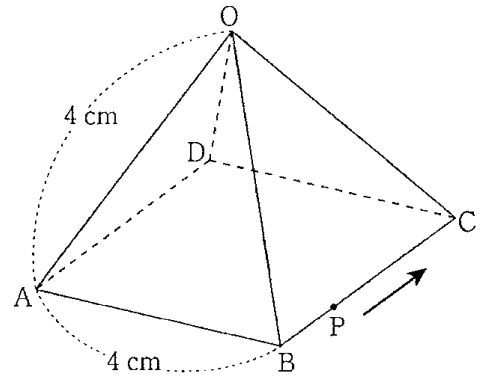
図のように、 O, A, B, C, D を頂点とし、正方形 $ABCD$ を底面とする正四角すいがあり、そのすべての辺の長さは 4 cm である。点 P は B を出発して、底面の辺上を C, D の順に A まで毎秒 1 cm の速さで動く。このとき、次の問1～問3に答えなさい。

(高知県 2009 年度)

問1. 辺 OA とねじれの位置にある辺はどれか。すべて書け。

問2. 点 P が B を出発してから 5 秒後のとき、3 点 A, B, P を頂点とする三角形の面積を求めよ。

問3. 点 P が B を出発してから x 秒後のとき、4 点 O, A, B, P を頂点とする三角すいの体積が $4\sqrt{2}\text{ cm}^3$ となる。このとき、 x の値をすべて求めよ。



解答欄

問1	
問2	cm^2
問3	$x =$

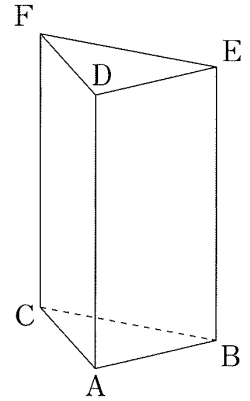
【問 39】

図は、底面 ABC が $AB=AC=6\text{cm}$ の直角二等辺三角形で、側面がすべて長方形の三角柱 ABC, DEF を表しており、 $AD=12\text{cm}$ である。次の問1～問3の の中にあてはまる最も簡単な数を記入せよ。ただし、根号を使う場合は $\sqrt{\quad}$ の中を最も小さい整数にすること。

(福岡県 2009 年度)

問1. 図に示す立体で辺 AD とねじれの位置にある辺は全部で 本 ある。

問2. 図に示す立体において $\triangle FAB$ の面積は cm^2 である。



問3. 図に示す立体において、辺 AD の中点を M とする。 $\triangle FCB$ を底面とし、点 M を頂点とする三角すい $MFCB$ の体積は cm^3 である。

解答欄

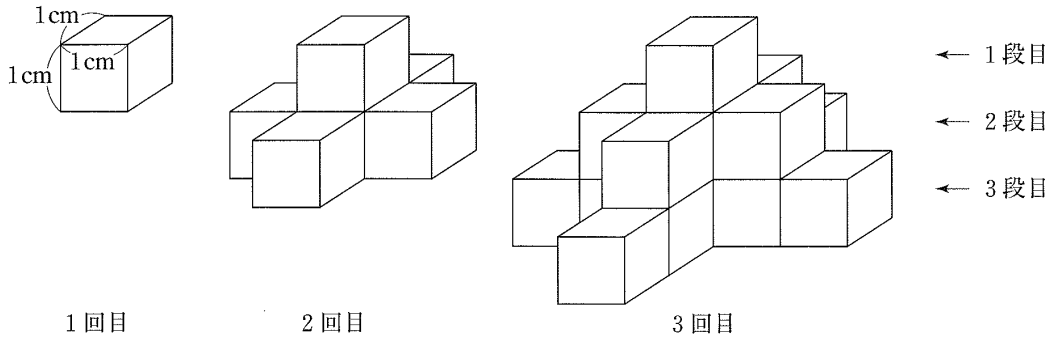
問1	
問2	
問3	

【問 40】

1 辺の長さが 1cm の立方体のブロックを使って、いろいろな立体をつくる時、次の問1、問2に答えなさい。

(佐賀県 前期 2009 年度)

図 1



問1. 図 1 のように、1 回目、2 回目、3 回目、… と操作を続け、1 段ずつ増やしていき立体をつくる。

A さんは図 1 を見て、次のことに気づいた。

3 回目の操作でできた立体は 1 段目には 1 個、2 段目には 5 個、3 段目には ① 個のブロックがある。このことから、1 段増えるごとに前の段よりも ② 個のブロックが多く必要である。

このとき、次の(1)、(2)に答えなさい。

(1) 上の①、②にあてはまる数を求めなさい。

(2) 4 回目の操作をしたとき、4 段目には ③ 個のブロックがある。したがって、4 回目の操作でできあがった立体は、全部で ④ 個のブロックからできており、表面積は ⑤ cm^2 である。さらに、この操作を何回か行ったとき、⑥ 段目には 33 個のブロックがある。③、④、⑤、⑥にあてはまる数を求めなさい。

問2. 20 個のブロックをすべて使って 1 つの直方体をつくる時、何種類かの直方体

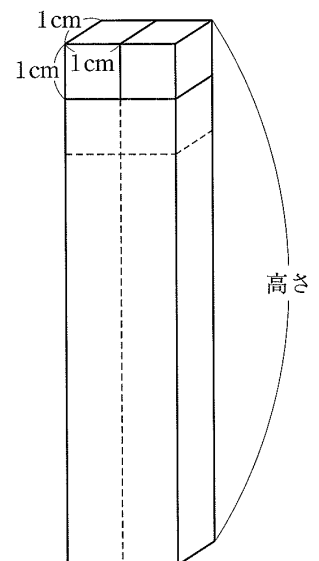
ができる。このとき、次の(1)、(2)に答えなさい。

(1) 図 2 のような直方体ができるとき、次の①、②に答えなさい。

① 図 2 の直方体の高さは何 cm か求めなさい。

② 図 2 の直方体の表面積は何 cm^2 か求めなさい。

(2) このときできる直方体は図 2 以外にもある。それぞれの直方体の表面積で、最も大きい表面積は何 cm^2 か、また、最も小さい表面積は何 cm^2 か、求めなさい。



解答欄

問1	(1)	①	
		②	
	(2)	③	
		④	
		⑤	
		⑥	
問2	(1)	①	cm
		②	cm ²
	(2)	最も大きい表面積	cm ²
		最も小さい表面積	cm ²

【問 41】

図 1 のように、 $AB=10\text{cm}$ 、 $AC=8\text{cm}$ 、 $\angle C=90^\circ$ の直角三角形 ABC がある。この直角三角形 ABC を、図 2 のように、直線 AB を軸として 30° だけ回転させたとき頂点 C が移動した点を D とし、三角すい $ABCD$ をつくる。また、辺 AB 上に、 $CH \perp AB$ となるように点 H をとる。このとき、次の問1～問5に答えなさい。

(佐賀県 後期 2009 年度)

問1. BC の長さを求めなさい。

問2. CH の長さを求めなさい。

問3. $\triangle CDH$ の面積を求めなさい。

問4. 三角すい $ABCD$ の体積を求めなさい。

問5. 直角三角形 ABC を、直線 AB を軸として 60° だけ回転させたとき、頂点 C が移動した点を E とし、三角すい $ABCE$ をつくる。このとき、三角すい $ABCE$ の体積は、三角すい $ABCD$ の体積の何倍か。

図 1

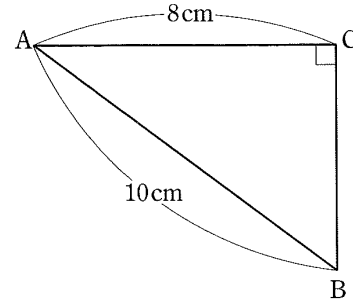
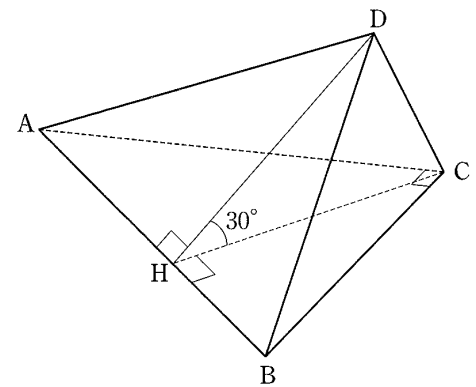


図 2



解答欄

問1	cm
問2	cm
問3	cm^2
問4	cm^3
問5	倍

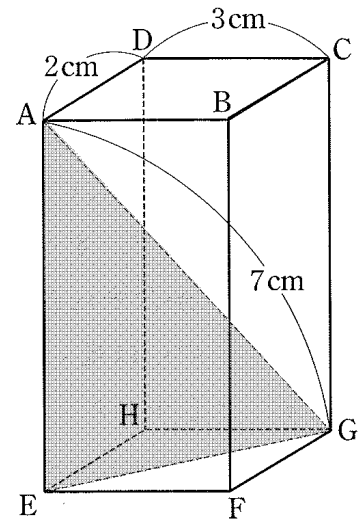
【問 42】

図のように、 $AD=2\text{cm}$ 、 $CD=3\text{cm}$ 、 $AG=7\text{cm}$ の直方体がある。このとき、次の(1)、(2)に答えなさい。

(佐賀県 後期 2009 年度)

(1) AC の長さを求めなさい。

(2) $\triangle AEG$ の面積を求めなさい。



解答欄

(1)	cm
(2)	cm^2

【問 43】

図のように、長さ 2cm の線分 AB を直径とする円 O の周上に、弧 AB を 3 等分する点 C、D とする。また、点 B を接点とする円 O の接線と直線 AC、直線 AD との交点をそれぞれ E、F とする。このとき、次の問 1～問 5 に答えなさい。

(佐賀県 後期 2009 年度)

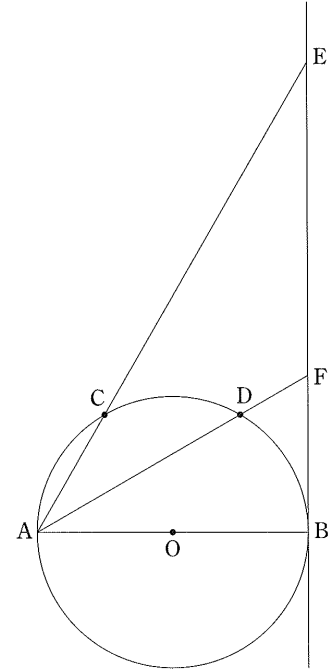
問 1. $\angle BOD$ の大きさを求めなさい。

問 2. BF の長さを求めなさい。

問 3. $\triangle ABF \sim \triangle EBA$ であることを証明しなさい。

問 4. $\triangle AFE$ の面積は $\triangle ABE$ の面積の何倍か。

問 5. $\triangle BCF$ の面積を求めなさい。



解答欄

問1	度
問2	cm
問3	証明
問4	倍
問5	cm ²

【問 44】

図 1～図 3 のように、8 つの点 A, B, C, D, E, F, G, H を頂点とする直方体 ABCDEFGH があり、 $AB=AD=9\text{cm}$ 、 $AE=8\text{cm}$ である。また、点 P は辺 AB 上にあり、 $AP=6\text{cm}$ である。このとき、次の問いに答えなさい。

(長崎県 2009 年度)

問1. 図 1 の直方体 ABCDEFGH において、辺 AB とねじれの位置にある辺は、全部で何本あるか。 図 1

る辺は、全部で何本あるか。

問2. 図 2 において、4 つの点 P, E, F, G を頂点とする三角すい PEFG の体積は何 cm^3 か。

問3. 図 2 において、線分 EP の長さは何 cm か。

問4. 図 3 のように、線分 EP の延長と辺 FB の延長との交点を Q とするとき、線分 BQ の長さは何 cm か。

問5. 図 3 において、台形 PEFB を、辺 BF を軸として 1 回転させてできる立体の体積は何 cm^3 か。

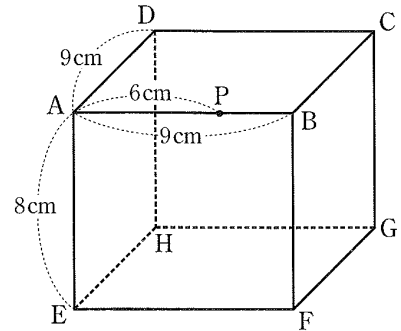


図 2

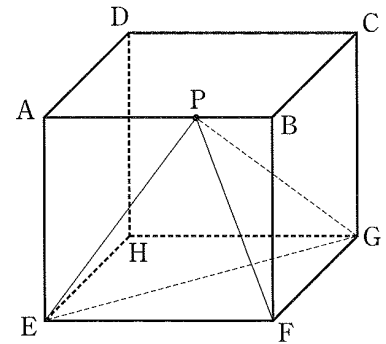
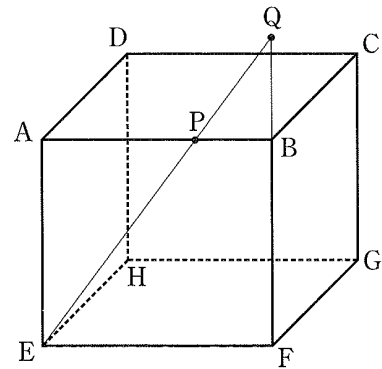


図 3



解答欄

問1	本
問2	cm^3
問3	cm
問4	cm
問5	cm^3

【問 45】

図 1～図 3 のように、8 つの点 A, B, C, D, E, F, G, H を頂点とする直方体 ABCDEFGH があり、 $AB=AD=9\text{cm}$ 、 $AE=8\text{cm}$ である。また、点 P は辺 AB 上にあり、 $AP=6\text{cm}$ である。このとき、次の問いに答えなさい。

(長崎県 2009 年度)

問1. 図 1 の直方体 ABCDEFGH において、辺 AB とねじれの位置にある辺 図 1

は、全部で何本あるか。

問2. 図 2 において、4 つの点 P, E, F, G を頂点とする三角すい PEFG の体

積は何 cm^3 か。

問3. 図 2 において、線分 EP の長さは何 cm か。

問4. 図 3 のように、線分 EP の延長と辺 FB の延長との交点を Q とするとき、

線分 PQ の長さは何 cm か。

問5. 図 3 において、台形 PEFB を、辺 BF を軸として 1 回転させてできる立

体の表面積は何 cm^2 か。

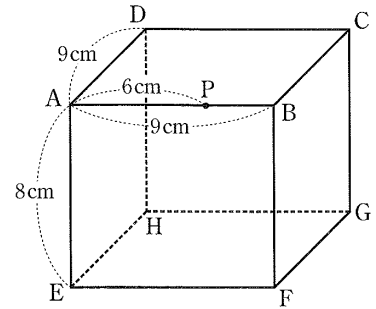


図 2

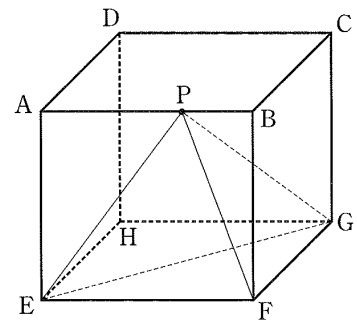
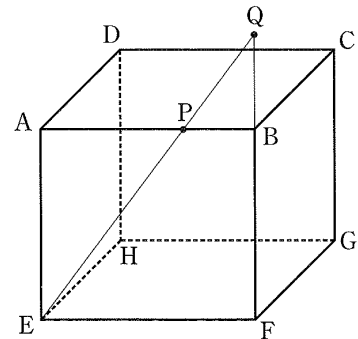


図 3



解答欄

問1	本
問2	cm^3
問3	cm
問4	cm
問5	cm^2

【問 46】

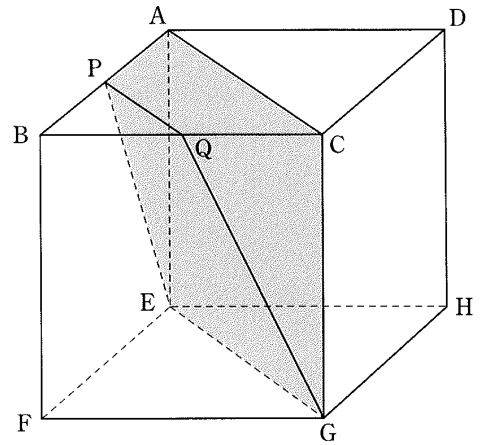
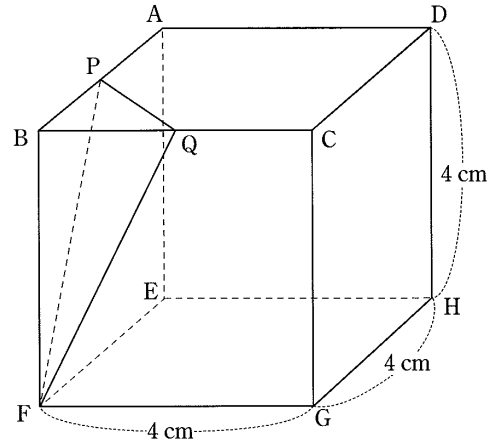
図のように、8点 A, B, C, D, E, F, G, H を頂点とする立方体がある。立方体の 1 辺の長さは 4cm で、辺 AB の中点を P, 辺 BC の中点を Q とする。次の問1～問3に答えなさい。

(大分県 2009 年度)

問1. 線分 AG の長さを求めなさい。

問2. 三角すい PBFQ の体積を求めなさい。

問3. 6点 A, P, Q, C, E, G を頂点とする立体の体積を求めなさい。



解答欄

問1	cm
問2	cm ³
問3	cm ³

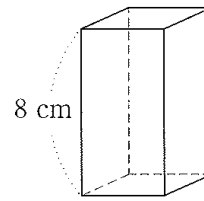
【問 47】

図 1 のような、正四角柱がある。この正四角柱の側面の展開図は、図 2 のような縦 8cm、横 16cm の長方形であった。このとき、次の各問いに答えなさい。

(熊本県 2009 年度)

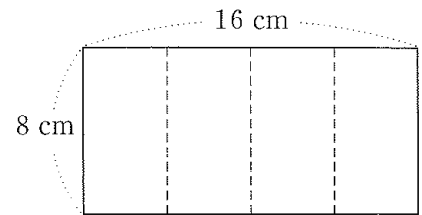
問1. 図 1 の正四角柱の体積を求めなさい。

図 1



問2. 次に、図 2 の長方形を図 3 のように 2 つの長方形 A、B に分け、長方形 A の横を x cm ($0 < x < 8$) とする。図 4 は、A が側面の展開図となる正四角柱であり、高さは x cm である。また、図 5 は、B が側面の展開図となる正四角柱であり、高さは 8 cm である。図 4 の正四角柱の体積を V cm³、図 5 の正四角柱の体積を V' cm³ とする。

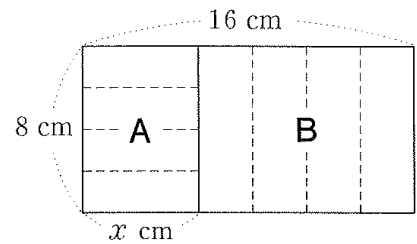
図 2



(1) $V : V' = 2 : 9$ となるときの、 x の値の求め方について、

次の 、 には式を、、 には数を入れて、文を完成しなさい。

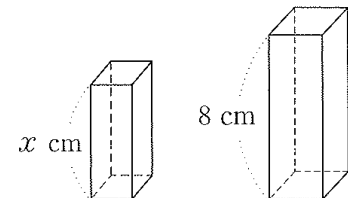
図 3



まず、 V を x の式で表すと $V =$ という一次式で表され V' を x の式で表すと $V' =$ という二次式で表される。
次に、 $V : V' = 2 : 9$ という条件を利用して、 x についての方程式をつくると、 $x^2 -$ $x +$ $= 0$ という二次方程式が得られ、この二次方程式を解くことによって x の値が求められる。

図 4

図 5



(2) $V : V' = 2 : 9$ となるとき図 4 と図 5 の 2 つの正四角柱の体積の和を求めなさい。

解答欄

問1			cm ³
問2	(1)	ア	
		イ	
		ウ	
		エ	
	(2)		

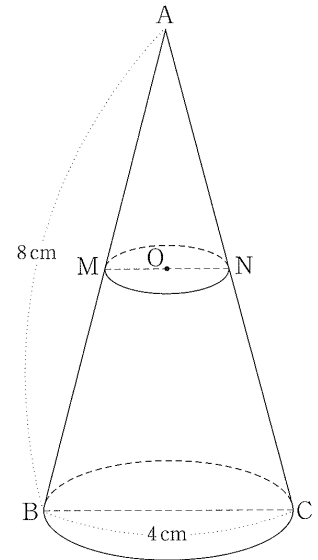
【問 48】

図 1 は、頂点を A とし、底面の直径 BC が 4cm、母線 AB が 8cm の円すいであり、母線 AB, AC の中点をそれぞれ M, N とする。また、線分 MN を直径とする円 O は底面に平行であり、円 O の円周は円すいの側面上にある。この円すいに点 B から側面を一回りして、点 M まで糸を巻きつける。このとき、次の各問いに答えなさい。ただし、根号がつくときは、根号のついたままで答えること。また、糸の伸び縮みおよび太さは考えないものとする。

(熊本県 2009 年度)

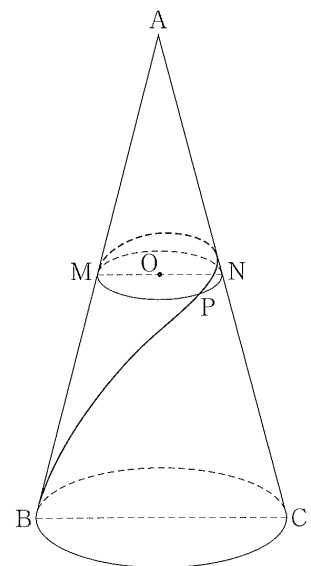
問1. 円すいの高さを求めなさい。

図 1



問2. 図 2 は、点 B から点 M までの糸の長さが、最も短くなるように巻きつけたものである。このとき、糸は円 O の周上の点 P を通った。点 P から点 M までの糸の長さを求めなさい。

図 2



解答欄

問1	cm
問2	cm

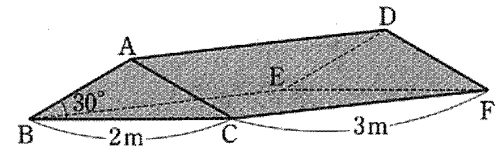
【問 49】

図 I のような、6 点 A, B, C, D, E, F を頂点とする三角柱の形をした屋根がある。この屋根の 4 点 B, C, E, F に、それぞれ同じ長さの支柱を取り付け、その支柱を平らな地面に垂直に立て、テントをつくる。AB=AC, BC=2m, CF=3m, $\angle ABC=30^\circ$ のとき、次の問1～問4に答えなさい。ただし、円周率は π とし、屋根の面の厚さや支柱の太さは考えないものとする。

(宮崎県 2009 年度)

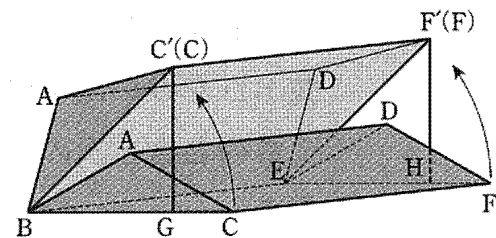
問1. 図 I において、辺 AB の長さを求めなさい。

図 I



問2. 図 II は、図 I において、辺 BE を地面に固定したまま、辺 CF を持ち上げ、2 点 C, F にそれぞれ支柱 $C'G$ と $F'H$ を取り付け、その支柱を地面に垂直に立てたものである。このとき、 $\angle C'BG$ の大きさは 45° であった。点 C が点 C' まで動いたとき、点 C が動いてできる線の長さを求めなさい。

図 II



問3. 図 III は、図 II において、支柱 $C'G$ と $F'H$ を地面に垂直に固定したまま、辺 BE を持ち上げ、2 点 B, E にそれぞれ支柱 $B'I$ と $E'J$ を取り付け、その支柱を地面に垂直に立てたものである。点 B が点 B' まで動いたとき、線分 AD が動いてできる面の面積を求めなさい。

図 III

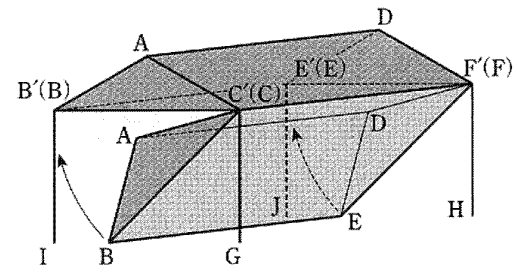
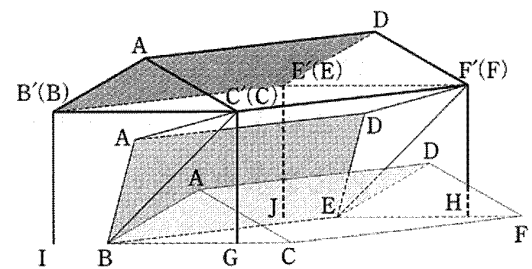


図 IV

問4. 図 IV は、図 II と図 III の動きのようすを合わせて示したものである。図 II のように、点 C が点 C' まで動き、次に、図 III のように、点 B が点 B' まで動いたとき、長方形の面 ABED が動いてできる立体の体積を求めなさい。



解答欄

問1	m
問2	m
問3	m^2
問4	m^3

【問 50】

図 1 は、1 辺の長さが 6cm の立方体の容器 ABCD-EFGH に水をいっぱいに入れたものであり、点 P は辺 AE の中点、点 Q は辺 DH の中点である。図 2 のように、図 1 の容器を静かに傾けて、水面が四角形 PBCQ になるまで水をこぼした。また、図 3 は図 1 の容器の展開図であり、図中の・は各辺の中点である。このとき、次の(1)、(2)の問いに答えよ。ただし、容器の厚さは考えないものとする。

(鹿児島県 2009 年度)

(1) 容器に残った水の体積は何 cm^3 か。

図 1

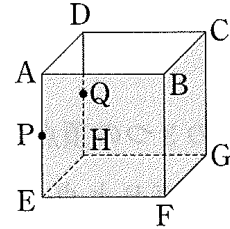
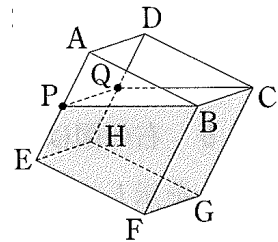
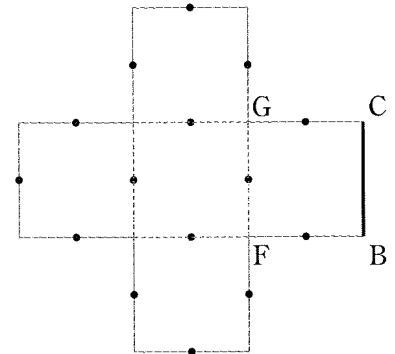


図 2



(2) 四角形 PBCQ の 4 辺のうち、辺 BC 以外の 3 辺を図 3 に実線で示せ。ただし、各点の記号 P, B, C, Q は書かなくてもよい。

図 3



解答欄

(1)	cm^3
(2)	

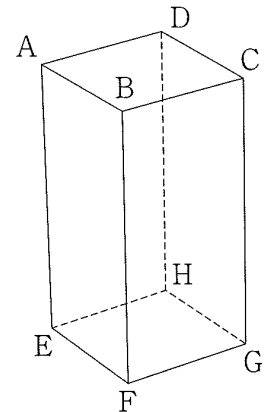
【問 51】

図 1 は、底面が 1 辺 2cm の正方形で、高さが 4cm の正四角柱である。このとき、次の問いに答えなさい。

(沖縄県 2009 年度)

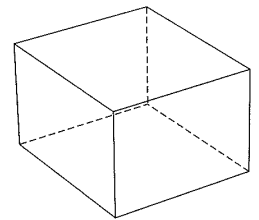
問1. 図 1 の正四角柱の体積を求めなさい。

図 1



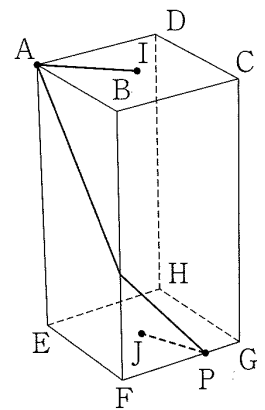
問2. 図 2 は正四角柱で、図 1 の正四角柱と比較すると体積は等しく、高さは半分である。この正四角柱の底面の 1 辺の長さを求めなさい。

図 2



問3. 図 3 は、図 1 において対角線 AC と対角線 BD の交点を I、対角線 EG と対角線 FH の交点を J、底面 EFGH の边上の点を P とし、I, A, P, J の順に糸をかけたものである。このとき、糸は正四角柱の表面に沿って長さがもっとも短くなるようにかけるものとする。

図 3



(1) 点 P が頂点 E の位置にあるとき、糸の長さを求めなさい。

(2) 点 P が頂点 G の位置にあるとき、糸の長さを求めなさい。

解答欄

問1	cm^3	
問2	cm	
問3	(1)	cm
	(2)	cm